






ВСЕРОССИЙСКИЙ
ДИСТАНЦИОННЫЙ КОНКУРС
ПО МАТЕМАТИКЕ «ЗВЕЗДОЧЁТ»

 zvezdochet-konkurs.ru

 zvezdochet-konkurs@mail.ru

 +7 (3852) 53-37-10

 vk.com/zvezdochetkonkurs

ПРИМЕРЫ ЗАДАНИЙ

1 КЛАСС

Группа А

Выполни задания 1 – 3. Необходимо выбрать правильный ответ и поставить метку ("крестик") в клеточку, которая соответствует выбранному варианту ответа.

1. Рассмотрите рисунок. Кто стоит по счету справа налево таким же, как и слева направо?



- А) лев
Б) слон
В) жираф
Г) зебра
2. Посчитай количество букв в слове «огурец» и в слове «помидор». Определи, в каком слове букв больше и на сколько.
- А) в слове «помидор» на 1 букву больше
Б) в этих словах равное количество букв
В) в слове «огурец» на 1 букву больше
Г) в слове «помидор» на 2 буквы больше

3. Вставь вместо пропуска знаки «+» или «-», чтобы получилось верное равенство.

$$5 \dots 1 \dots 3 = 7$$

- А) + +
Б) - -
В) + -
Г) - +

Группа В

Выполни задания 4 – 6. Запиши краткий ответ на вопрос задачи. Записывать ответ в виде математического выражения запрещается. Образец ответа: 5 яблок.

4. В банку налили 2 литра воды и наполнили её до половины. Сколько литров воды помещается в банке?
5. Рома старше Паши, но моложе Васи. Серёжа старше Васи. Кто моложе всех?
6. Оля хочет купить пирожные. Если она купит 1 пирожное, то у неё ещё останется 2 рубля, а на 2 пирожных ей не хватает 1 рубля. Сколько стоит 1 пирожное?

