






ВСЕРОССИЙСКИЙ  
ДИСТАНЦИОННЫЙ КОНКУРС  
ПО МАТЕМАТИКЕ «ЗВЕЗДОЧЁТ»

 zvezdochet-konkurs.ru

 zvezdochet-konkurs@mail.ru

 +7 (3852) 53-37-10

 vk.com/zvezdochetkonkurs

## ПРИМЕРЫ ЗАДАНИЙ

## 2 КЛАСС

### Группа А

Выполни задания 1 – 3. Необходимо выбрать правильный ответ и поставить метку ("крестик") в клеточку, которая соответствует выбранному варианту ответа.

- Сколько десятков во всех числах, которые больше 40, но меньше 50?  
А) 4  
Б) 5  
В) от 40 до 50  
Г) во всех числах по-разному
- В каком варианте в обоих примерах ответ больше, чем в примере  $7 + 8 - 9$ ?  
А)  $14 - 7$ ,  $15 - 9$   
Б)  $11 - 7$ ,  $13 - 8$   
В)  $17 - 8$ ,  $13 - 6$   
Г)  $12 - 7$ ,  $15 - 6$
- Какая запись верная?  
А)  $6 \text{ дм} = 6 \text{ м}$   
Б)  $4 \text{ дм} > 48 \text{ см}$   
В)  $25 \text{ мм} > 2 \text{ см}$   
Г)  $20 \text{ см} < 2 \text{ дм}$

### Группа В

Выполни задания 4 – 6. Запиши краткий ответ на вопрос задачи. Записывать ответ в виде математического выражения запрещается. Образец ответа: 5 яблок.

- Славе и Илье вместе 9 лет. Сколько лет им будет вместе через 3 года?
- В классе 28 человек. Все, кроме Коли, решили подписаться на журналы. 16 человек выписали журнал «Веселые уроки», а 18 – «Веселые картинки». Сколько человек выписали оба журнала?
- По полоске бумаги длиной 1 дм Дюймовочка сделала ровно два шага. Скольким сантиметрам равна длина одного шага Дюймовочки?

