







ВСЕРОССИЙСКИЙ
ДИСТАНЦИОННЫЙ КОНКУРС
ПО МАТЕМАТИКЕ «ЗВЕЗДОЧЁТ»

 zvezdochet-konkurs.ru

 zvezdochet-konkurs@mail.ru

 +7 (3852) 53-37-10

 vk.com/zvezdochetkonkurs

ПРИМЕРЫ ЗАДАНИЙ

4 КЛАСС

Группа А

Выполни задания 1 – 3. Необходимо выбрать правильный ответ и поставить метку ("крестик") в клеточку, которая соответствует выбранному варианту ответа.

1. Сколько метров в одной десятой части километра?
А) 10 м
Б) 20 м
В) 50 м
Г) 100 м
2. Во сколько раз 1 дм^2 больше 1 см^2 ?
А) в 10 раз
Б) в 100 раз
В) в 1000 раз
Г) в 10 000 раз
3. В каком ряду указаны все числа, которые могут получиться в остатке при делении на 4?
А) 2, 3, 4
Б) 1, 2
В) 1, 2, 3
Г) 1, 3

Группа В

Выполни задания 4 – 6. Запиши краткий ответ на вопрос задачи. Записывать ответ в виде математического выражения запрещается. Образец ответа: 5 яблок.

4. В саду 30 хвойных деревьев и 20 плодовых, всего 70 деревьев. Хвойные деревья не плодовые. Сколько в саду лиственных неплодовых деревьев?
5. Витя сделал 46 бумажных солдатиков, а Женя – в 4 раза больше. Витя каждый день делает по 2 солдатика, Женя – по 1. Через сколько дней у Вити будет на 46 солдатиков меньше, чем у Жени?
6. 4 столяра за 2 дня сделали 4 стула. Сколько стульев сделают 6 столяров за 6 дней?

